

NOME: _____








COPA DO MUNDO















★ FOLHA 9 - CONTANDO E REGISTRANDO ★



1 CONTE AS TAÇAS E ESCREVA O NÚMERO.

| | | | | |
|---|---|---|---|---|
|  <input type="text"/> |  <input type="text"/> |  <input type="text"/> |  <input type="text"/> |  <input type="text"/> |
|---|---|---|---|---|

2 PINTE A QUANTIDADE PEDIDA.

| | | | | | |
|---|---|---|---|--|---|
|  PINTE 2 BOLAS |  |  |  |  |  |
|  PINTE 4 BOLAS |  |  |  |  |  |

3 QUAL TEM MAIS?

| | |
|---|---|
| <p>GRUPO A</p>  <input type="radio"/> A | <p>GRUPO B</p>  <input type="radio"/> B |
|---|---|

4 DESENHE 5 BOLAS.



WWW.BRINCARLER.COM

