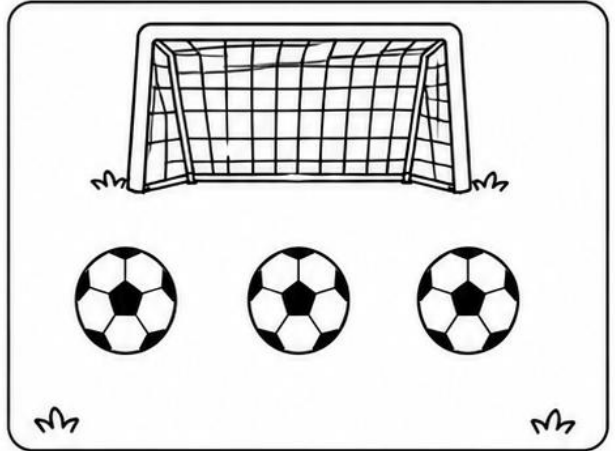
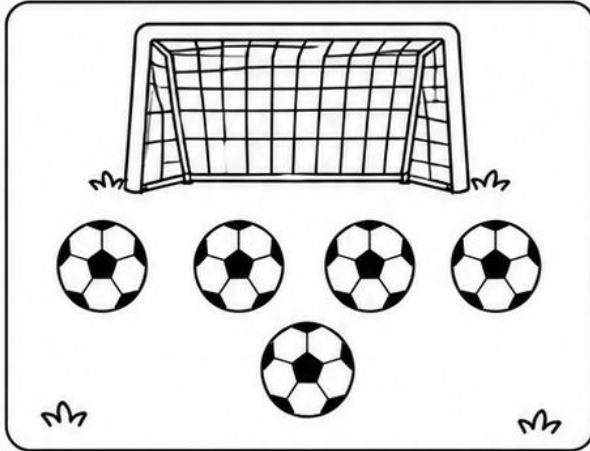


NOME: _____

COPA DO MUNDO

★ FOLHA 4 - MAIS OU MENOS ★

1 OBSERVE OS GRUPOS.



2 RESPONDA MARCANDO COM UM X.

QUAL GRUPO TEM MAIS?



ESQUERDA

DIREITA

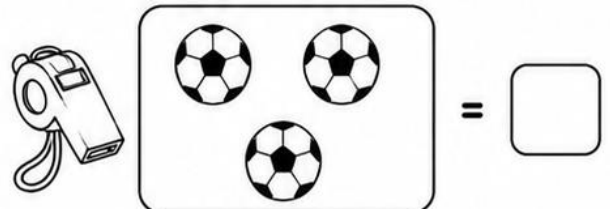
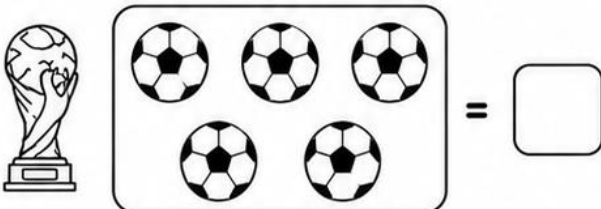
QUAL GRUPO TEM MENOS?



ESQUERDA

DIREITA

3 CONTE E ESCREVA QUANTAS BOLAS TEM EM CADA GRUPO.



4 PINTE OS DESENHOS.

